

<b>Asignatura:</b> Historia, Geografía y Ciencias Sociales	
<b>Docente:</b> Rossana Sánchez E.	<b>Curso:</b> 4º Básico B
<b>Objetivo de Aprendizaje (OA8 2º Básico):</b> Clasificar y caracterizar algunos paisajes de Chile según su ubicación en la zona norte, centro y sur del país, observando imágenes, y utilizando diversas fuentes y un vocabulario geográfico adecuado.	
<b>Contenido:</b> Reconocer características principales de cada zona de nuestro país.	
<b>Habilidad:</b> Observar, reconocer y nombrar zonas de nuestro País.	
<b>Semana N°: 22</b> (Lunes 31 al Viernes 04 de agosto)	

<b>HORARIO ONLINE SEMANAL</b>			
HORARIO	MARTES	JUEVES	VIERNES
10:30 a 11:15 hrs.	Lenguaje y comunicación	Matemáticas	Historia/ Ciencias naturales
12:00 a 12:45 hrs.	Inglés		

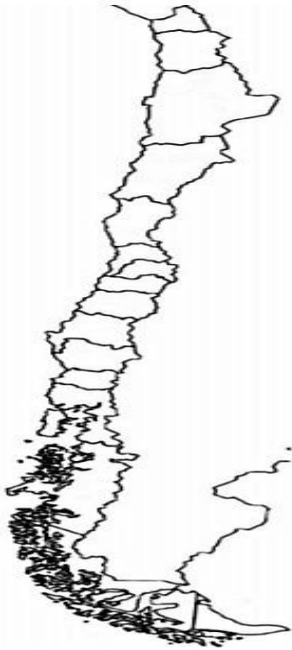
La modalidad de clases online es una nueva forma para seguir adquiriendo aprendizajes; y para eso, es necesario el trabajo en conjunto y compromiso de la familia a favor de nuestros alumnos.

Hoy trabajaremos en...

Reconocer características principales de cada zona de nuestro país.



**Para iniciar**, ¿Recuerdas cómo se llama nuestro País? Si, nuestro país se llama Chile.

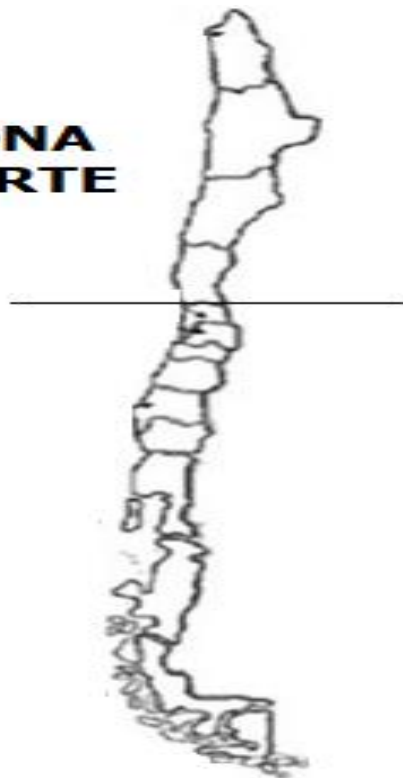


### **Chile**

Nuestro País se llama Chile y se encuentra en América del Sur. Es una larga y delgada franja de tierra, que se divide en tres zonas: norte, centro y sur. Nuestro País está rodeado de Cordillera y Mar.

En esta oportunidad, conoceremos la Zona Norte de Chile. Observa el siguiente mapa de Chile y colorea de color amarillo zona norte.

**ZONA  
NORTE**





Observa el siguiente video para conocer a Jorge, un niño que vive en la zona norte:

<https://www.youtube.com/watch?v=3i3unRhgs6U>

Los paisajes de esta zona son muy **áridos o secos**. Presentan un clima desértico: llueve muy poco, las temperaturas son altas en el día y bajas en la noche. Los animales se adaptan a la sequedad. La vegetación se adapta a las escasas lluvias del desierto.

**A continuación**, observa las siguientes imágenes y responde las preguntas.




**Marca con una X la respuesta correcta.**


1.- ¿Cómo es el paisaje de la zona norte?



2.- ¿Cómo es el clima de la zona norte?




3.- ¿Qué animales se observan más en la zona norte?



4.- ¿Cuál es la vegetación de la zona norte?



Para concluir, colorea la imagen de zona norte de Chile.




## SOLUCIONARIO

1.- ¿Cómo es el paisaje de la zona norte?



2.- ¿Cómo es el clima de la zona norte?






3.- ¿Qué animales se observan más en la zona norte?




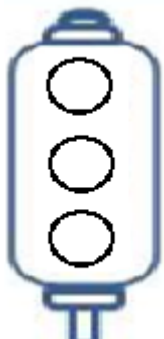


4.- ¿Cuál es la vegetación de la zona norte?



### Autoevaluación ¿Cómo lo he hecho?

 Verde. Excelente  
  Naranja. Bien  
  Rojo. Puedes mejorar

<p>1.- Estoy atento frente a las actividades a realizar.</p>		<p>2.- Desarrollo las guías sin mayor dificultad.</p>	
<p>3.- Comprendo y sigo las instrucciones dadas por el adulto.</p>		<p>4.- Doy a conocer mi trabajo terminado a familia, compañeros y docente.</p>	

**Apoderados:** A continuación, se solicita evaluar el desempeño de su hijo/a. Lea atentamente y luego marque con una X su evaluación. Cuando finalice, enviar al siguiente correo: [rsancheze2@hotmail.com](mailto:rsancheze2@hotmail.com) o enviar fotografía a mi WhatsApp.

L: Logrado

M/L: Medianamente Logrado

NL: No Logrado

<b>INDICADORES SEMANA 22</b>	<b>L</b>	<b>ML</b>	<b>NL</b>
<b>CONTENIDO</b>			
Reconocen Chile en mapa.			
Identifican o nombran que nuestro país se llama Chile.			
Colorean zona norte de Chile.			
Observan diferentes imágenes de zona norte de Chile.			
Identifican características principales de zona norte de Chile.			
Identifican o nombran vegetación de zona norte de Chile.			
Identifican o nombran animales de zona norte de Chile.			